

Тялимата
6.сайлы ялава

Азәрбайжан Республикасы ДИН-нин 2003-жц ил
«__» _____ тарихли «__» №__-ли ямри
иля тясдиг едилмишдир.

Азәрб. Республикасы ДИН БДЙПИ-нин
ряиси _____

_____ тьярфиндян
(сойады, ады, атасынын ады)
цнван _____
иш йери, вьязифяси _____
_____ телефон _____

Я Р И З Я

_____ маркалы, _____ гейдийят нишанлы

«__» _____ 200__ ил

_____ (имза) (Сойады, а.а.)

Тялимата
7 сайлы ялава

**Фярди гайдада щазырланмыш автомобилин
(мотосиклетин, гошгунун) Техники**

характеристикасы

Истецсал олдууу ил _____ Ады _____

Мягсяди _____

Габарит юлчцляри _____

Отуражаг йерляри _____

Бан: нювц _____

Мццяррик: модели _____ Эцжц вя ишчи щяжми _____

Цмуми техники характеристикасы (сцкан идаря етмя вя тормоз системляри гейд олунмагла) _____

Мцяллифин сойады, ады. _____

Цнваны (Почт индекси) _____

Мцяллифин имзасы _____

тарих

Тялимата
8 сайлы ялавя

«Тясдиг едирям»
Азярбайжан Республикасы ДИН
БДИП Идарясинин ряиси
рящбляри

«Разыйам»
ЙЩТ Елми тящгигат институтун
(лабараторийасынын)

_____ имзасы, сояады

_____ имзасы, сояады

М.Й.«.....».....
тарих

М.Й.«.....».....
тарих

Фярди гайдада щазырланмыш автомобил (мотосиклет, гошгу) барядя

Р Я Й

Мцяллиф _____
(сойады, ады а,а)

_____ цнваны, иш йери, телефон №_ -си
Габарит юлчцляр (мм иля)

Узунлуьу _____ ени _____
щцндцрлцц _____

Там йцкц вязийятдя йолун сятщиндян автомобилин ян ашаьы нюгтясиня гядяр олан мясафя _____ мм;

Банын типн _____
рянэи _____

Мцщяррикин эщц вя иш щяжми _____ Отуражаг йерляринин сайы _____

Ишлятдийи йанажаг нювц _____

Шинлярин юлчцляри вя сайы _____ Габаг щцщя (типи) _____

Тормоз вя сцкан идаряетмя системляри гейд олунмагла гыса техникн характеристикасы

Комиссийанын сядри: 1. _____
(сойады, ады, а.а.)

Цзвляри: 2. _____
3. _____
4. _____
5. _____

Гейд: Ряй няглийат васитясинин БДЙПИ-ин ГИБ-дя гейдийята алынмасы цццн ясас сайылыр.

Няглийатын техники вязийятинин мцайна

А К Т Ы

«.....»
тарих

_____ дювлят автомобил мцфяттиши

_____ (яризя ДИО-нун ады)

_____ (рцтбяси, сойады, а.а.)

1. Няглийат васитясинин маркасы, модели вя рянэи

2. Гейдийат нишаны _____
си _____

3. Мццяррик №_ -

4. Шасси (рама) №_ -си _____

5. Бан №_ -си

6. Бурахылыш или _____

7. Гейдийат
шыщадятнамяси _____

8. Ишлятдийи йанажаг
нювц _____

(газ, бензин, дизел,....)

9. Няглийат васитяляринин мяхсуслуьу

_____ (щцгуги вя физики шяхсин ады)

10. Щцгуги вя физики шяхсин цнваны

11. Ашкар олунмуш техники насазлыг

12. Шинлярин сайы,
юлчцляри,вязийяти _____

13. Техники вязийяти цагда ряй

_____ (саздыр, насаздыр, гейдийат нишаны ачылыб)

Дювлят Йол Полис бюлмясинин
ряиси _____

(имзасы)

М.Й.

Няглийат васитясинин сащиби _____

(срцжц)

Сойады а.а.

(Имзаў)

Тялимата
10 сайлы ялава

Няглийат васитялярина техники бахыш

А К Т Ы

“ ”
_____ тарих

_____ дювлят автомобил мцфяттиши _____
ДИО-нун ады _____ рцтбьси, сойады

_____ балансында олан няглийат васитялярина тезники бахыш кечирдим.
(щцгути шахсин ады)

Техники бахыш вахты ашаыдакылар ашкар олунду.

_____ ядыд няглийат васитяси техники бахыша тягдим едилди.

С/№	Няглийатын нювц, банын типи	марка, модел	гейди й-йат нишаны	Агрегат нюмряляри			бурахылыш или	йнажаг нювц (газ, бен)	техники бахышын нятижасы	талон ун нюм-си
				мцщя р	бан	шасс и				

Техники бахышын нятижасына зюря: _____ баланса олан _____ ядыд няглийат васитясиндян _____ ядыд няглийат васитяси саздыр.

_____ ядыд жари тямирдя; _____ ядыд ясаслы тямирдя; _____ ядыд йол щярякати

тящлцкясизлийи тяляблярина жаваб вермир; _____ ядыд техники бахыша тягдим едилмяди; _____ ядыд

няглийат васитяси силинмишдир.

Щцгуги шяхс _____
(имзасы, сойады)

Мцщасиб вя йа ону явяз едян шяхс _____
М.Й. _____
(имзасы, сойады)

Дювлят автомобил мцфяттиши _____
(имзасы, сойады)

**Тялимата
11 сайлы ялавя**

Дювлят техники бахышындан кечмя талону (тясвири)

1. Талон бланклары юзцйапышан каьыздан щазырланыр. Талонун цз тяряфинин фону сары, йашыл, гырмызы рянэлярдян бири олмагла цч илдян бир тякранланыр. Фонда автомобил силуети тясвир олунур.

рянэи	Талонун	Илляр	Илляр
Сары		2001	2004
Йашыл		2002	2005
Гырмызы		2003	2006 вя с.

2. Талонун юлчцсц щцндцрлццц 60 мм; ени-90 мм.
3. Цз тяряфиндя ашаьыдакылар йазылыр:

Солдан 20x10 мм юлчцдя Азярбайжан Республикасынын символу АЗ; саьда 30x18 мм юлчцдя-ДЙП сюзц, ортада 50x35 мм юлчцлц сащядя шрифтля няглийат васитясинин дювлят техники бахышындан кечирилмяси или. Талонун кянар тяряфляриндя нюбьяти илдя техники бахыш айы эюстярилир.

4. Талонун арха тяряфиндя онун нюмряси, мющцр йери, няглийат васитясинин маркасы, дювлят гейдийат нишаны, сащибь, дювлят техники бахышынын кечирилдийи ай вя ил эюстярилир. Талонун саь тяряфиндя нюмря щиссяси кясилиб гейдийат щящадятнамясиня йапышдырылыр.
5. Талонун арха щиссясиндяки гейдляр ДЙП мцфяттишинин имзасы вя мющцрц иля тясдиг едилир.

16	КИА								
17	Ниссан								
18	Тойота								
19	Митсубиси								
20	Пежо								
21	Рено								
22	Фиат								
23	Тофаш								
24	Форд								
25	Дизяр харижи миник автомобилляри								
26	Жипляр								
	О жцмлядян ; ВАЗ- 2121								
	УАЗ-469 вя модификасийа								
27	Жями миник Автомобилляри (1- 26)								
28	Йцк автомобилляри								
29	Автобуслар								
	9-16 йерлик								
	16-24 ерлик								
	24-40 йерлик								
	40 йерлик вя артыг								
30	Жями автомобилляр (27+28+29)								
31	Гошгулар вя йарымгош-гулар								
32	Мотосиклляр								

ДЙП бюлмясинин ряиси, полис
(Дювлят автомобил мцфяттиши)

_____ имза, рцтбя, сойад

Тялимата
6.сайлы ялавя

Азярбайжан Республикасы ДИН-нин 2003-жц ил
«24» октябрь тарихли «407» №_-ли ямри иля
тясдиг едилмишдир.

Азярб. Республикасы ДИН БДЙПИ-нин

ряис _____

тяряфиндян

(сойады, ады, атасынын ады)

Цнван _____

иш йери, вязифяси

_____ телефон _____

—

Я Р И З Я

_____ маркалы, _____ гейдийят
нишанлы

«__» _____ 200__ ил

_____ (имза) (Сойады, а.а.)

Azərbaycan Respublikası DİN Baş Dövlət Yol Polisi İdarəsi

Təlimata 1 sayılı əlavə

Azərbaycan Respublikasının milli sürücülük vəsiqəsi

Təlimata 2 sayılı əlavə

(Nazirlik və baş İdarənin adı)

(təhsil müəssisəsinin adı)

ŞƏHADƏTNAMƏ № _____

Seriya _____

Verilir _____ vətəndaş

(soyadı, adı və atasının adı)
Ondan ötrü ki, o «_____» _____ ildən «_____» _____ ilə
qədər

_____proqramı

üzrə
təhsil almış və «_____» _____ il tarixli, _____№-li
Protokola əsasən buraxılış imtahanlarında aşağıdakı qiymətləri almışdır
(«kafi», «yaxşı», «əla)

Quruluş _____ və _____ texniki _____ qulluq

Yol hərəkəti qaydaları və hərəkət təhlükəsizliyinin
əsasları _____ (və _____ ilk _____ tibbi _____ yardım)

Praktiki _____ sürmə _____ təlimi

İmtahan komissiyasının sədri _____
(imza)

Tədris müəssisəsinin rəhbəri _____
(imza)

M.Y.

_____ №-li _____ seriyalı sürücülük vəsiqəsi

« _____ » ildə verilib

M.Y.

(imza)

əlavə Təlimata 3 saylı

QİM-in

rəisi

Xahiş edirəm « _____ » kateqoriyalı nəqliyyat vasitələri sürücülərin
hazırlayan _____ № tədris qrupunu qeydiyyatda alınız

(təhsil müəssisəsinin, təşkilatın adı)

ünvani _____

telefon _____

Dərslərin

başlanması

Dərslərin

qurtarması

MÜƏLLİMLƏR:

1.Nəqliyyat vasitələrinin quruluşu və onlara texniki xidmət

(soyadı, adı və atasının adı)

təhsili _____
peşəsi _____
2.Yol hərəkəti qaydaları və təhlükəsizliyin əsasları

(soyadı, adı və atasının adı)

təhsili _____
peşəsi _____
3.Zədə almış şəxsə ilkin tibbi yardım göstərilməsi

(soyadı, adı və atasının adı)

təhsili _____
peşəsi _____

Sürmə təlimi üzrə istehsalat ustası

1. _____

(soyadı, adı və atasının adı)

təhsili _____
« _____ » kateqoriyalı nəqliyyat vasitəsində iş stajı

Öyrətməyə hüquq verən şəhadətnamə^(il) seriya
№ _____
« _____ » _____ il

2. _____

(soyadı, adı və atasının adı)

təhsili _____
« _____ » kateqoriyalı nəqliyyat vasitəsində iş stajı

Öyrətməyə hüquq verən şəhadətnamə^(il) seriya
№ _____
« _____ » _____ il

Təlimata 3 sayılı əlavənin
davamı

Tələbələrin siyahısı

Sıra №-si	Soyadı, adı, atasının adı	Təvəllüdü (gün, ay, il)	Təhsili (sür.vəsiqəsi, seriya, nömrə, kim tərəfindən və nə vaxt verilib, kateqoriya)*	İş yeri, vəzifəsi	Yaşayış yeri
1	2	3	4	5	6

Təhsil müəssisəsinin
(təşkilatın) rəhbəri

(imza)

« ____ » _____ il

* 4-cü qrafada yeni hazırlanan nəqliyyat vasitələri sürücüləri üçün təhsili, ixtisasını artırın sürücülər üçün işə sürücülük vəsiqəsinin nömrə və seriyası göstərilir.

_____ Dövlət Yol Polisi
(şəhər, rayon)
İdarəsinin.....saylı Qeydiyyat-imtahan məntəqəsinə
_____ tərəfindən
(soyadı, adı və atasının adı)

doğulduğu il _____ doğulduğu yer
_____ ünvanı
iş _____ yeri
vəzifəsi _____
pasport _____ seriyası
verilib № _____
_____ (nə vaxt və kim tərəfindən)

Ə R İ Z Ə

« _____ » QİM-dən _____
aldığım _____ (tarix)
_____ seriyalı _____ № _____ kateqoriyaya
aid
nəqliyyat vasitələrinin idarə etmək hüququ verən
sürücülük vəsiqəsi _____ əlaqədar
olaraq _____
(səbəb göstərilir)
dəyişməyinizi, dublikat verməyinizi xahiş edirəm.

Ərizəyə aşağıdakı sənədləri əlavə edirəm:

1. _____
2. _____
3. _____
4. _____
- _____

_____ (şəxsi imza)

« _____ » _____ 199__ il

DYP QİM-in xidməti qeydi:

_____ seriyalı _____ №-li sürücülük vəsiqəsi
verilib.

« _____ » _____ 199__ il

Dövlət _____ avtomobil _____ müfəttişi
(pasportçu) _____

(imza)

Təlimata 7 saylı əlavə

NƏZƏRİ İMTAHANIN KEÇİRİLMƏ METODİKASI*

1.İmtahanın keçirilmə forması

1.1.Nəzəri imtahan bütün tədris qrupundan, eləcə də onun müəyyən hissəsindən aşağıda göstərilən formalardan biri üzrə qəbul edilə bilər:

- DYP tərəfindən hazırlanmış biletlər üzrə şifahi sorğu əsasında;
- kompüter imtahan aparatları vasitəsi ilə.

1.2.İmtahan elə formada qəbul edilməlidir ki, sürücülüyə namizədin yol hərəkəti qaydalarını və hərəkətin təhlükəsizliyi tələblərini dərk etməsini müəyyən etmək mümkün olsun.

2.İmtahanın məzmunu

2.1.Nəzəri imtahan aparılarkən sürücülüyə namizədin biliyi aşağıdakı istiqamətlər üzrə müəyyən edilir:

2.1.1.Yol hərəkəti qanunvericiliyi, eləcə də nəqliyyat vasitələrindən istifadə qaydaları və yol hərəkəti qaydalarının pozulmasına görə inzibati məsuliyyət;

2.1.2.Yol hərəkətinə, yol nişanlarına və işarələrinə, yolların nişanlanması-na, nişanların mənalarna aid qayda və tələblər;

* -bundan sonra mətdə - «metodika»

2.1.3.Hərəkət vaxtı nəqliyyat vasitələrinin təhlükəsizliyinə aid texniki tələblər;

2.1.4.İş günü və istirahət vaxtları da daxil olmaqla yol hərəkətinin təhlükəsizliyinə dair bilavasitə sürücüyə aid olan qaydalar;

2.1.5.Yol-nəqliyyat hadisəsi baş verdikdə sürücünün düzgün davranışına aid qaydalar;

2.1.6.Yol-nəqliyyat hadisəsi törədildikdə sürücünün mülki (əmlak) və cinayət məsuliyyəti;

2.1.7.Yol -nəqliyyat hadisələrinin baş verməsinə imkan yaradan amillər;

2.1.8.Yol hərəkəti təhlükəsizliyinin təmin edilməsi üçün mühüm əhəmiyyət kəsb edən nəqliyyat vasitələrinin elementləri;

2.1.9.Yol-nəqliyyat hadisələri nəticəsində zədə almış şəxslərə ilk tibbi yardım göstərilməsinin üsulları;

2.1.10.Nəqliyyat vasitələrindən ətraf mühitə atılan zərərli maddələrin normadan artıq olmasına imkan verməyən nəzarət-nizamlama cihazları və idarəetmə üsulları.

2.2.İmtahan biletləri nəqliyyat vasitələrini idarə etmək hüququ verən sürücülük vəsiqəsi almaq istəyən şəxslərdən yol hərəkəti qaydaları üzrə nəzəri imtahan qəbul edilməsi üçün nəzərdə tutulmuşdur.

İmtahan biletləri bütün yol hərəkəti qaydalarını, hərəkətin təhlükəsizliyinə aid tələbləri və tibbi hazırlığı əhatə edir.

Hər bir imtahan biletində sıra nömrəsi 1-dən 10-dək olan 10 sual olur. Hər bir sualın 2-dən 5-dək cavabı vardır ki, onlardan yalnız biri məzmunca tam və düzgündür.

2.3.Yol hərəkəti qaydalarına, habelə digər normativ hüquqi sənədlərə əlavə və dəyişikliklər edilərsə, belə dəyişikliklər imtahan biletlərində əks etdirilir.

İmtahanlar yalnız qüvvədə olan normativ sənədlərin tələblərinə cavab verən qaydada tərtib edilmiş biletlər əsasında aparılır.

2.4.İmtahanların nəticələri bu Metodikanın 1 sayılı əlavəsinə uyğun formada xüsusi imtahan vərəqəsində qeyd olunur.

3.Nəzəri imtahanın keçirilməsi

3.1.İmtahan otağın sahəsindən və orada olan avadanlıqlardan, eləcə də imtahan verənlərin davranışına nəzarət etməyin mümkünlüyü baxımından qrup şəklində qəbul edilir.

İmtahan verən şəxsin lazımı sənədləri yoxlanıldıqdan sonra ona imtahan vərəqəsi verilir.

3.2.İmtahan proseduru ilə bağlı izahat aparıldıqdan sonra imtahan verən şəxsə bilet götürülməsi təklif edilir. İmtahan üçün 10 sual təklif edilir və imtahan vaxtı 15 dəqiqə müəyyənləşdirilir.

İmtahan verən şəxs bütün sualları diqqətlə oxumalı və təklif edilmiş variantlardan düzgün olan bir cavabı seçməlidir.

3.3.Bütün suallara cavab verdikdən sonra imtahan verən şəxs, imtahan vərəqəsini imtahanı qəbul edən QİM əməkdaşına təhvil verir.

İmtahanların nəticəsini imtahan aparatları və ya kompüterlər müəyyən edir.

İmtahan verən şəxsə məqbul qiymət o halda verilir ki, ona təklif olunmuş 10 sualdan 9-na düzgün cavab vermiş olsun.

Təklif edilmiş suallara 15 dəqiqə ərzində cavab verə bilməyən və yaxud 2 səhv edən şəxsin biliyi «qeyri-məqbul» qiymətləndirilir.

Nəzəri imtahanın keçirilmə
Metodikasına 1 sayılı əlavə

Yol hərəkəti qaydalarına aid imtahan vərəqəsi

Sürmə təlimi haqqında imtahanın nəticəsi	A	B	C	D	E	Troll.	Tramv.	YHQ üzrə nəzəri imtahanın nəticəsi
_____	Soyadı _____							_____
_____	Adı _____							_____
_____	Atasının adı _____							_____
_____	Doğulduğu il, gün, ay və yer _____							_____
_____	Yaşadığı yer _____							_____
_____	Həkim müayinəsindən keçmişdir _____							_____
_____	_____							_____
_____	İmtahan Verən şəxsin imzası							_____

--	--	--

İmtahanın səbəbi
(lazım olanın altından
xətt çəkməli)

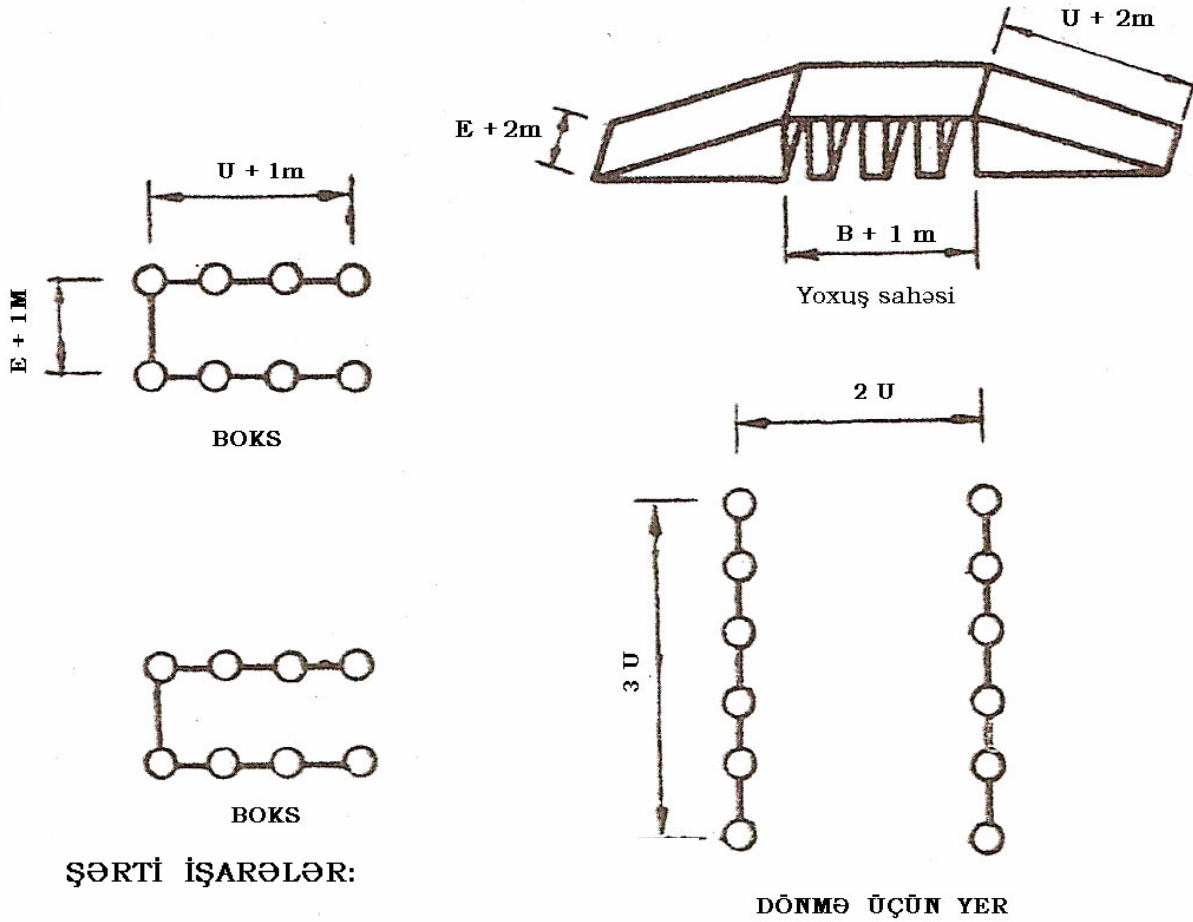
İlkin sürücülük vəsiqəsinin alınması, digər kateqoriyaların alınması,
sürücülük hüququndan məhrum etmə müddətinin
bitməsi.

Dövlət avtomobil müfəttişi _____

Metodikaya 1 sayılı əlavə

BAĞLI MEYDANÇANIN SXEMİ

maillik 16° -dan az olmamalı



ŞƏRTİ İŞARƏLƏR:

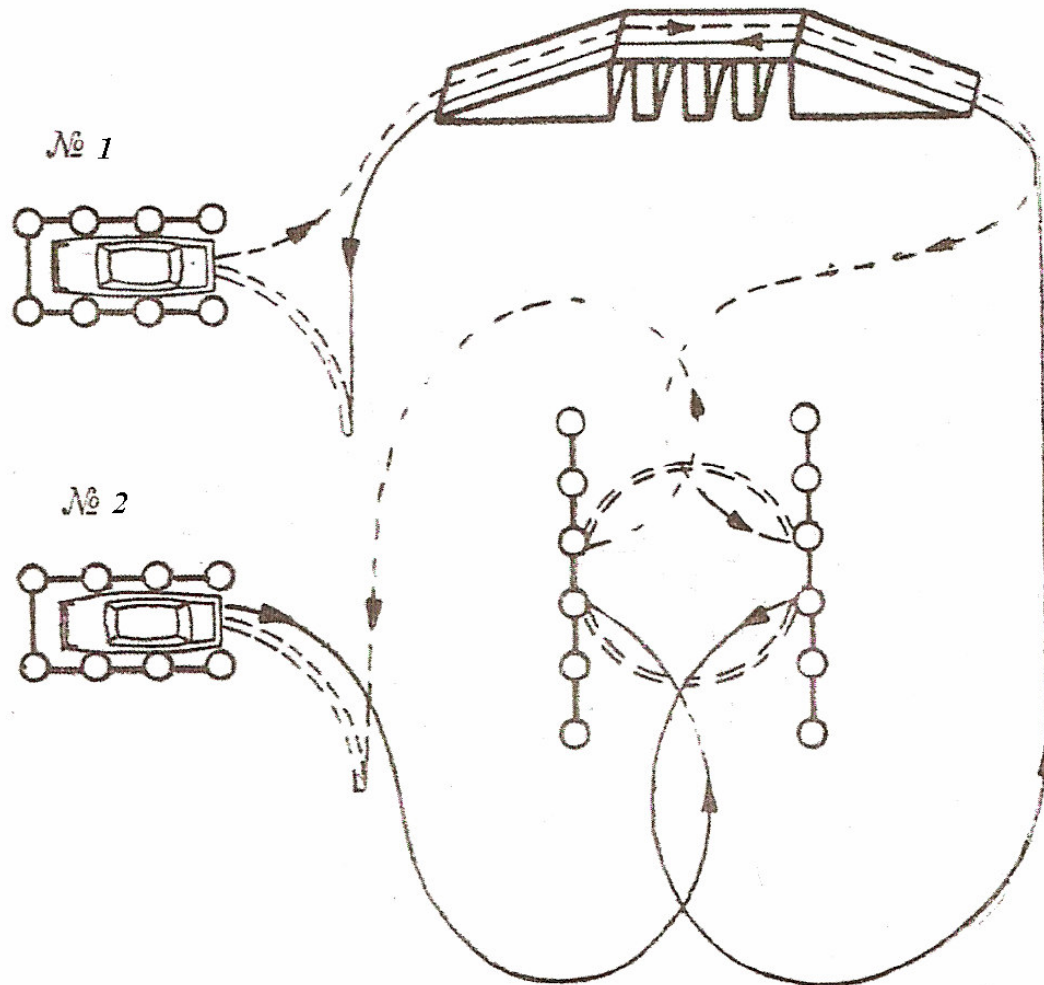
B — avtomobilin bazası;

U — avtomobilin uzunluğu;

E — avtomobilin eni.

BAĞLI MEYDANÇADA HƏRƏKƏT MARŞRUTLARI

Metodikaya 1 sayılı əlavənin davamı



1-ci avtomobilin marşrutu :

2-ci avtomobilin marşrutu :

— — — — — qabağa hərəkət sahəsi

————— qabağa hərəkət sahəsi

= = = = = arxaya hərəkət sahəsi

= ≈ = = = ≈ arxaya hərəkət sahəsi

Metodikaya 2 sayılı əlavə

**Sürücülüyə namizədlərdən təcrübi imtahanların qəbul edilməsi
və onların sürmə vərdişlərinin qiymətləndirilməsi**

Sıra №-si	Sürmə vərdişi üzrə təcrübi imtahanını məzmunu üzrə qayda pozuntuları	Qaydaların pozulmasına görə cərimə ballarının miqdarı
1	2	3
1.	I Hərəkətin başlanılması: -hərəkətin başlanmasına hazırlıq, digər hərəkət iştirakçılarına münasibətdə diqqətli olmamaq; -təhlükəsizlik kəməri bağlama; -mühərriki işə bir dəfədən sala bilməmək; -xəbərdaredici siqnalların yandırılmaması və vaxtında verilməməsi;	10 20 10 10

	<ul style="list-style-type: none"> -arxaya baxış güzgüsündən istifadə edilməməsi; -əl tormozunun buraxılmaması; -nəqliyyat vasitəsinin yerindən səliss tərpedilməməsi; -sürətin artırılması və ötürücüyə keçirmə rejiminin pozulması; -yandan parklama 70 sm-dən artıq olmamalı; -parklama edərkən bardürə toxunarsa. 	<p>10</p> <p>10</p> <p>100</p> <p>10</p> <p>30</p> <p>100</p>
2.	<p style="text-align: center;">II</p> <p style="text-align: center;">Yoxuşda yerindən tərpenmə:</p> <ul style="list-style-type: none"> -avtomobilin yoxuşda saxlanması, sonra hərəkətin davam etdirilə bilməməsi; -bu halda avtomobil yerindən səliss tərpenməli, mühərrik sönməməli və avtomobil 20 sm-dən çox arxaya getməməlidir; -20 sm-dən çox arxaya buraxılırsa. 	<p>20</p> <p>20</p> <p>100</p>
3.	<p style="text-align: center;">III</p> <p style="text-align: center;">Hərəkət hissəsinin eni məhdudlaşdırılmış yerdə geriye dönme:</p> <ul style="list-style-type: none"> -ölçüləri məhdudlaşdırılmış yol sahəsində sürətlər qutusunun arxa ötürücüsünü işə salmaqla bir dəfədən geri dönə bilməməsi; -bu halda mühərrik sönsə; - hərəkət zolağından kənara çıxarsa. 	<p>20</p> <p>50</p>
4.	<p style="text-align: center;">IV</p> <p style="text-align: center;">Düzünə hərəkət:</p> <ul style="list-style-type: none"> -yolun hərəkət hissəsində düzgün yerləşməməsi; -lazımi hərəkət sürətinə riayət olunmaması; -nəqliyyat vasitələrinin arasında ara və yan məsafələrin düzgün seçilməməsi. 	<p>10</p> <p>30</p> <p>10</p>
1	2	3
5.	<p style="text-align: center;">V</p> <p style="text-align: center;">Bir istiqamətdə iki və daha çox hərəkət zolağı olan yolda manevr etmə:</p>	

	<p>-xəbərdaredici siqnalların vaxtında verilməməsi; - dayanmış nəqliyyat vasitələrinin, o cümlədən ictimai nəqliyyatın və digər maneələrin yanından düzgün ötür keçə bilməmək; - bir zolaqdan digərinə yerdəyişmənin düzgün icra edilməməsi; - hərəkət iştirakçılarının siqnallarına qarşı lazımi reaksiyanın verilməməsi.</p>	<p>20 10 10 10</p>
6.	<p style="text-align: center;">VI Nizamlanan yol ayrıcından keçilməsi:</p> <p>- yol ayrıcına yaxınlaşarkən yol şəraitinə qiymət verilməməsi, lazım gəldikdə xəbərdaredici siqnalların verilməməsi; - nəqliyyat vasitəsinin yol ayrıcının qarşısında düzgün dayandırılmaması; - dayandıqdan sonra nəqliyyat vasitəsinin yerindən səlis tərpənilməməsi; - svetoforun siqnallarına və ya elektron tablo işarələrinə (ETİ) əməl olunmaması.</p>	<p>10 20 10 100</p>
7.	<p style="text-align: center;">VII Nizamlanmayan yol ayrıcısını keçmək:</p> <p>- yol ayrıcına yaxınlaşarkən, yol nişanlanma xətlərinin tələbləri, digər hərəkət iştirakçılarının işarələri nəzərə alınmaqla onlara qiymət verilməməsi; - hərəkətə üstünlük verilən hallarda onlara əməl edilməməsi; - yol ayrıcına yaxınlaşdıqda hərəkət sürəti və piyada keçidini düzgün keçə bilməmək.</p>	<p>50 25 20</p>
8.	<p style="text-align: center;">VIII Dönmənin (geriyə dönmənin) icrası:</p> <p>- döngəyə düzgün daxil olmamaq; - səlistlik, sürət və hərəkət trayektoriyası nəzərə alınmaqla döngədən çıxma bilməmək.</p>	<p>10 10</p>

9.	<p style="text-align: center;">IX Ötmə:</p> <p>-ötmədən əvvəl yol nişanlarının, nişanlanma xətlərinin tələbləri və digər hərəkət iştirakçılarının davranışları nəzərə alınmaqla yol şəraitini qiymətləndirə bilməmək; -xəbərdarlıq siqnallarının vaxtında verilməməsi; -konkret şəraitindən asılı olaraq, ötmə vaxtı sürət rejimini düzgün seçməmək; -hərəkətin təhlükəsizliyini təmin etmək şərti ilə ötmə əməliyyatının başlanğıc və qurtarma trayektoriyasına düzgün əməl etməmək.</p>	<p>50</p> <p>30</p> <p>20</p> <p>50</p>
1	2	3
10	<p style="text-align: center;">X Dayanma:</p> <p>-xəbərdarlıq siqnalının vaxtında verilməməsi və düzgün yerdəyişmə edilməməsi; -hərəkət sürətinin səlis olaraq azaldılmaması; -yolun hərəkət hissəsində (kənarlarında) dayanarkən nəqliyyat vasitəsinin düzgün yerləşdirilməməsi.</p>	<p>10</p> <p>10</p> <p>10</p>
11.	<p style="text-align: center;">XI Yol nişanları və nişanlanma xətlərinin tələbləri:</p> <p>-yol nişanları və nişanlanma xətlərinin tələblərinin yerinə yetirilməməsi</p>	<p>50</p>
12.	<p style="text-align: center;">XII Qəza şəraiti yaradıldıqda:</p> <p>-qəza şəraiti yaratdı və qəflətən avtomobili saxlaya bilmədi, bununla da imtahan komissiyasının üzvünün müdaxiləsini zəruri etdi; -avtomobili maniyəyə və ya başqa elementlərə toxundurdu;</p>	<p>100</p> <p>100</p>

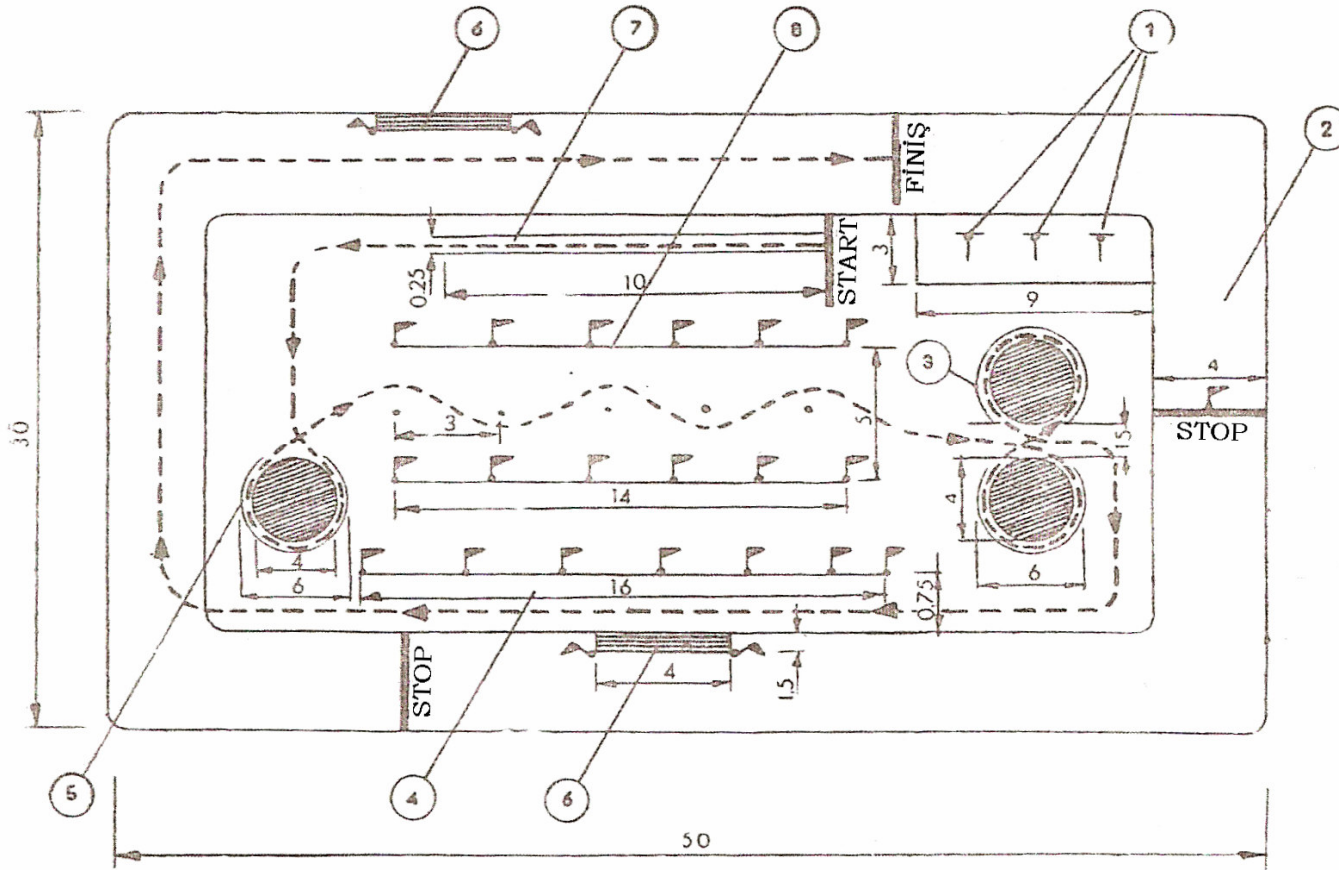
	-avtomobilin yol hüdudlarından çıxmasının qarşısını almaq üçün imtahan komissiyasının üzvünün müdaxiləsini zəruri etdi.	100
13.	<p style="text-align: center;">XIII</p> <p style="text-align: center;">Arxa ötürücü ilə boksa girmə:</p> <p>-avtomobil geriyyə verilərək dayandırıldıqda, onun xarici konturu işarə edilmiş boksun daxilində olmadıqda;</p> <p>-bu element yerinə yetirilərkən boksdan olan minimal məsafə imtahan avtomobilinin dönmə xarici qabarit radiusunun 1,5 mislindən az olduqda;</p> <p>-bu şərt pozulmaqla və ya avtomobil boksa toxunduqda.</p>	<p style="text-align: center;">20</p> <p style="text-align: center;">20</p> <p style="text-align: center;">100</p>

Sürücülüyə namizəd qaydaların pozulmasına görə 100 cərimə balı topladıqda «qeyri-məqbul» qiymət almış olur.

Metodikaya 3 sayılı əlavə

Motosiklet, motorlar və mopedin idarə oluması üzrə
xüsusi meydançanın təxmini sxemi:

- 1 - təlim motosikletləri; 2 - dairəvi marşrut; 3 - "səkkizvari" qabaritlər;
- 4 - qabarit dəhlizi; 5 - qabarit dairəsi; 6 - nəqliyyat vasitələrin maketləri;
- 7 - kolçaya lövhəsi; 8 - "ilanvari" qabarit.



Dövlət Yol Polisinin imtahan komissiyasının

PROTOKOLU № _____

« ____ » _____ il

Komissiyanın heyəti: Sədr _____ Üzvləri _____

№	İmtahan verənin soyadı	doğum ili	Təhsil müəssisəsi	ABCDE	N b	N a	İmtahanın nəticəsi		123456789*
							nəzəri (ilkin və ya təkrar)	Praktik (ilkin və ya təkrar)	

Komissiyanın heyəti: Sədr _____ Üzvlər _____

Sürücülük vəsiqəsinin verilmə

REYESTRİ

Tarix	Soyadı, adı, atasının adı	Anadan olduğu gün, ay, il	Hansı kateqoriyaya aid nəqliyyat vasitəsinin idarə edilməsi hüququ verir	Xüsusi qeydlər	Sürücülük vəsiqəsinin nömrəsi və seriyası	Əsası (nömrəsi, tarixi, kim tərəfindən)	Sürücülük hüququnun məhdudlaşdırılması barədə qeyd
1	2	3	4	5	6	7	9